

71

Mathe trainieren


1. Klasse



Vorwort	1	Gemischte Aufgaben	39
Zahlen bis 10		Muster fortsetzen	47
Zahlen schreiben	2	Test 3	48
Zählen, Zahlen einordnen und vergleichen	4	Geld: Euro und Cent	
Links oder rechts?	6	Münzen und Scheine	50
Muster fortsetzen	8	Rechnen mit Geld	52
Test 1	9	Sachaufgaben	54
Rechnen bis 10		Zahlenrätsel	59
Plusaufgaben	10	Test 4	60
Puzzleteile zuordnen	14	Geometrie	
Minusaufgaben	15	Flächenformen	62
Muster fortsetzen	17	Test 5	65
Gemischte Aufgaben	18	Uhr und Uhrzeit	
Test 2	26	Uhrzeiten lesen und einstellen	66
Knobelaufgabe	28	Mit Uhrzeiten rechnen	68
Zahlen bis 20		Muster fortsetzen	69
Bündeln	29	Test 6	70
Zahlen darstellen, verbinden, einordnen und vergleichen	30	Ausblick 2. Klasse	
Rechnen bis 20		Punkte verbinden bis 100	71
Kleine und große Aufgaben	32	Begriffe und Tipps	72
Zehnerübergang mit +	34	Stichwortverzeichnis	74
Zehnerübergang mit –	37	Puzzleteile zu Aufg. 37 und 71	75
		Herausnehmbarer Lösungsteil	
		in der Heftmitte nach Seite	38

Lieber Zahlenfreund,

mit diesem Trainingsheft kannst du entdecken, wie spannend Zahlen sind, und Rechnen üben. Denn Denken, Knobeln und Malen macht dir sicher Spaß!

Die blauen Balken oben auf jeder Seite sagen dir, um welches **Thema** es geht. Die Aufgaben mit  sind ein bisschen schwieriger. Die **Tests** zwischendurch können dir zeigen, wie gut du dich auskennst.

In der Heftmitte findest du alle **Lösungen mit Erklärung** zum Herausnehmen und eine URKUNDE! Löse immer zwei Seiten und kontrolliere sie. Dann darfst du die Nummer der rechten Seite auf der Urkunde suchen und mit der vorgegebenen Farbe anmalen.

Auf Seite 72 und 73 findest du wichtige **Begriffe** erklärt und ein paar **Rechentipps**.


Viel Freude damit

wünscht dir 


Hallo Kinder!
Ich bin Coco und übe mit dir.
Ich erkläre dir die Aufgaben mit
Beispielen. Manchmal habe ich
auch einen Tipp für dich!
Auf geht's!



16 Wo ist die Kugel? Verbinde mit dem Bild.

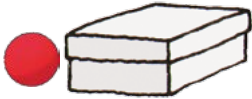



auf der Box




hinter der Box

in der Box




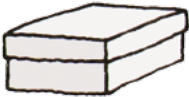
rechts neben
der Box

links neben
der Box

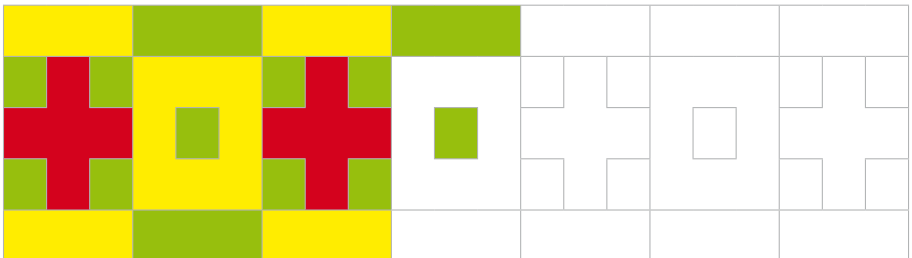


unter der Box

über der Box



17 Male das Muster weiter an.
Achte genau auf die Farben.



32 Tempo-Rechnen

$$\begin{array}{r}
 5 - 2 = \underline{\quad} \quad 9 - 3 = \underline{\quad} \\
 7 - 5 = \underline{\quad} \quad 4 - 1 = \underline{\quad} \\
 4 - 2 = \underline{\quad} \quad 5 - 3 = \underline{\quad} \quad 7 - 3 = \underline{\quad} \\
 9 - 4 = \underline{\quad} \quad 3 - 2 = \underline{\quad} \quad 10 - 8 = \underline{\quad} \\
 10 - 5 = \underline{\quad} \quad 9 - 7 = \underline{\quad} \quad 2 - 2 = \underline{\quad} \\
 6 - 3 = \underline{\quad} \quad 5 - 4 = \underline{\quad} \quad 8 - 4 = \underline{\quad} \\
 8 - 3 = \underline{\quad} \quad 10 - 6 = \underline{\quad} \quad 9 - 6 = \underline{\quad}
 \end{array}$$

Wie schnell bist du bei Minusaufgaben? Stoppe wieder die Zeit!



Zeit: Minuten und Sekunden / Fehler

Tipp: Rechne gleich morgen noch einmal!
 Decke dazu deine Lösungen ab! Kannst du dich verbessern?

33 Pfeilaufgaben

Der Pfeil oben zeigt, wie viel weg muss.

	-3		-2		-5
	↘		↘		↘
4	1	6		8	
9		8		10	
7		10		7	

34 Zeichne das Muster selbst genauso weiter.

