



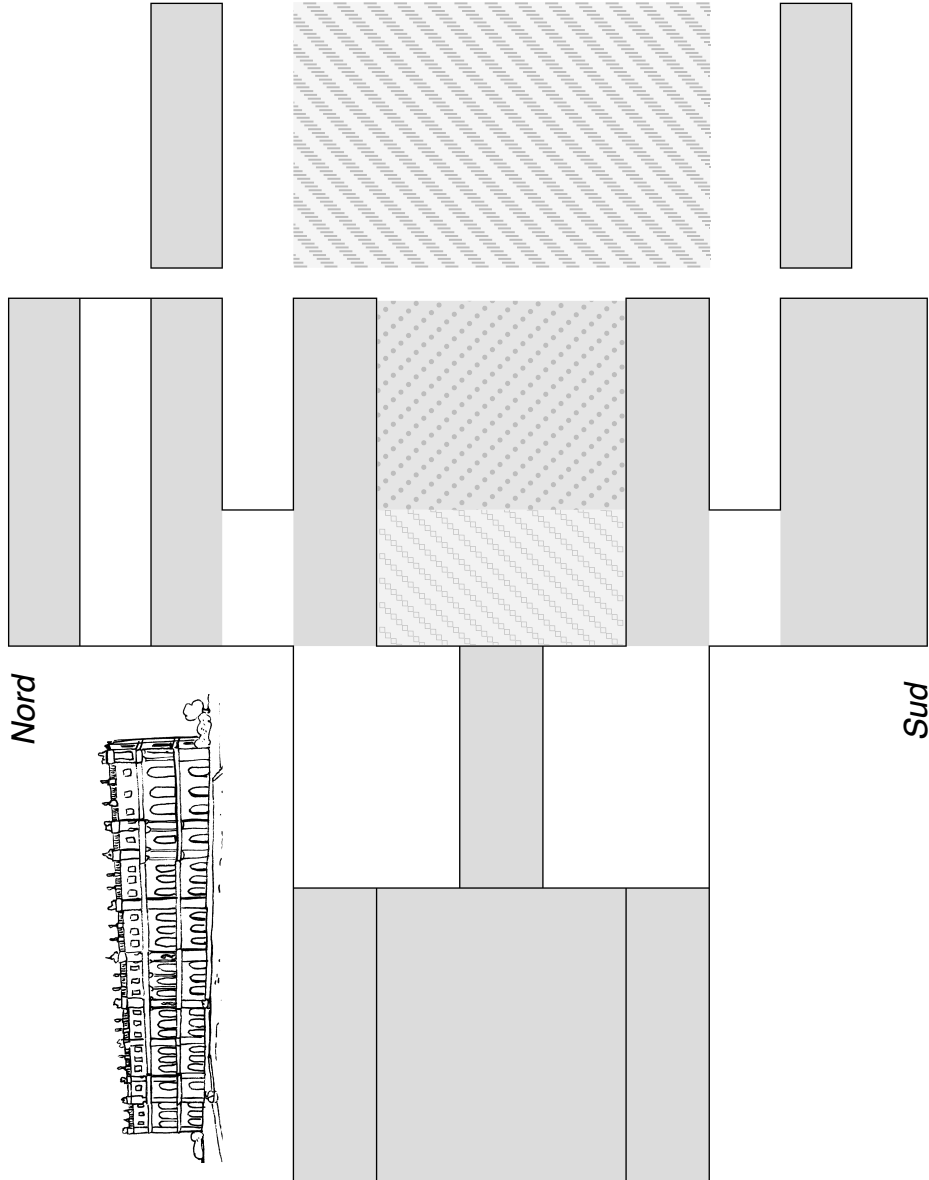
Le château de Versailles



Voici un plan très grossier d'une partie du château de Versailles. Tu peux voir l'aile nord, l'aile sud et les cours. Lis les phrases, écris les noms des pièces et des cours dans le plan et trouve la solution:

Où se trouve le salon de la Paix?

Nord




Sud

1. A l'ouest de l'aile Gabriel se trouve le salon de la Guerre.
2. L'autre salle dans l'aile nord est l'Opéra.
3. La cour la plus grande est la cour des Ministres.
4. Au nord de la galerie des Batailles se trouve l'aile Dufour.
5. A gauche de l'aile nord des Ministres se trouve la Chapelle.
6. La cour Royale est devant la chambre du Roi et à côté de la cour de Marbre.
7. A gauche et à droite de la cour des Ministres se trouvent les deux ailes des Ministres.
8. Tout au sud se trouve la galerie des Batailles.
9. La galerie des Glaces est à côté du salon de la Guerre.
10. En face de l'aile Dufour se trouve l'aile Gabriel.
11. La chambre du Roi se trouve à l'est de la galerie des Glaces.



Le château de Versailles



Voici un plan très grossier d'une partie du château de Versailles.

Lis les phrases, écris les noms des pièces dans le plan et trouve la solution:




Où est-ce que se trouve la chambre du Roi? **A gauche du grand cabinet du Roi**

Une solution possible: 3 - 5 - 9 - 1 - 2 - 4 - 8 - 7 - 6

Salon de la Paix	Galerie des Glaces		Salon de la Guerre
Chambre de la Reine	Chambre du Roi	Grand Cabinet du Roi	
trois		chambre un peu modeste	
appartements		Cabinet de la Pendule	le cabinet des Chiens
de la Reine		Bibliothèque	
Salle du Sacre			

- La pièce la plus grande est la galerie des Glaces.
- Le salon de la guerre est à droite de la galerie des Glaces.
- De l'autre côté de la galerie des Glaces, se trouve le salon de la Paix.
- La Reine dort à côté du salon de la Paix.
- La pièce qui n'est pas loin du salon de la Guerre est le grand cabinet du Roi.
- Au sud du grand cabinet du Roi, il y a une chambre un peu modeste.
- Au sud de la chambre un peu modeste, se trouve le cabinet de la Pendule.
- La bibliothèque est à côté du cabinet de la Pendule.
- La grande salle presque en face de la bibliothèque est la salle du Sacre.

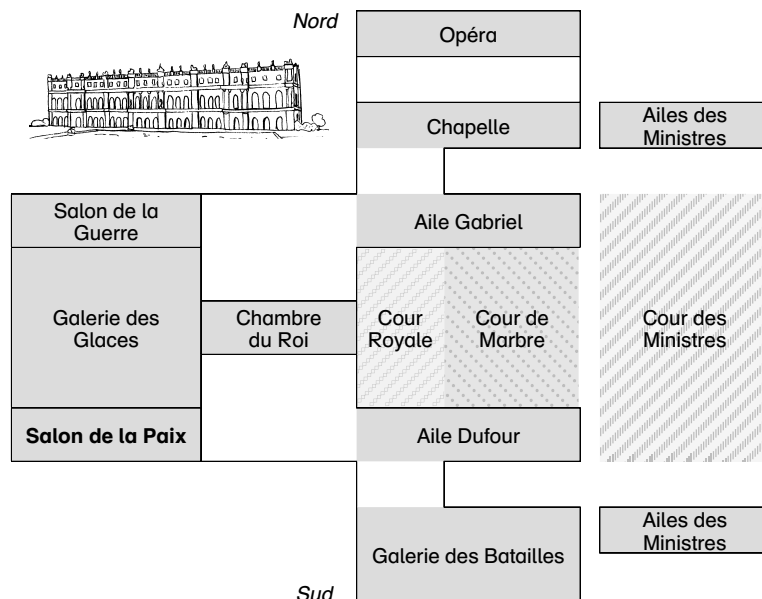
Le château de Versailles



Voici un plan très grossier d'une partie du château de Versailles. Tu peux voir l'aile nord, l'aile sud et les cours. Lis les phrases, écris les noms des pièces et des cours dans le plan et trouve la solution:

Où se trouve le salon de la Paix? **Au sud de la galerie des Glace**

Une solution possible: 8 - 4 - 10 - 1 - 9 - 11 - 6 - 3 - 7 - 5 - 2



- Tout au sud se trouve la galerie des Batailles.
- Au nord de la galerie des Batailles se trouve l'Aile Dufour.
- En face de l'aile Dufour se trouve l'aile Gabriel.
- A l'ouest de l'aile Gabriel se trouve le salon de la Guerre.
- La galerie des Glaces est à côté du salon de la Guerre.
- La chambre du Roi se trouve à l'est de la galerie des Glaces.
- La cour Royale est devant la chambre du Roi et à côté de la cour de Marbre.
- La cour la plus grande est la cour des Ministres.
- A gauche et à droite de la cour des Ministres se trouvent les deux ailes des Ministres.
- A gauche de l'aile nord des Ministres se trouve la Chapelle.
- L'autre salle dans l'aile nord est l'Opéra.