

# Mathe trainieren

3. Klasse



Vorwort .....	1	<b>Geometrie, Kombinatorik und Wahrscheinlichkeit</b>	
<b>Rechnen bis 100</b> .....	2	Achsensymmetrie .....	50
<b>Einmaleins</b> .....	6	Farbkombination .....	52
<b>Test 1</b> .....	11	Glücksräder .....	52
<b>Zahlen bis 1000</b>		Körperformen .....	54
Zahlen ordnen, vergleichen und darstellen .....	12	Ansichten .....	56
Zahlenrätsel .....	18	Würfel und Würfelnetze .....	57
<b>Test 2</b> .....	19	<b>Test 5</b> .....	60
<b>Rechnen bis 1000</b>		<b>Längenmaße</b> .....	62
Plusaufgaben .....	20	<b>Gewichte</b> .....	65
Minusaufgaben .....	22	<b>Diagramme</b> .....	68
Karte lesen .....	25	<b>Test 6</b> .....	70
Gemischte Aufgaben .....	26	<b>Geld</b> .....	72
<b>Test 3</b> .....	28	<b>Uhr und Zeit</b> .....	77
<b>Schriftliche Rechenverfahren</b>		<b>Test 7</b> .....	81
Plusaufgaben .....	30	Stichwortverzeichnis .....	82
Minusaufgaben .....	35	Puzzleteile zu Aufg. 46 und 98 .....	83
Gemischte Aufgaben .....	41	<b>Herausnehmbarer Lösungsteil</b>	
<b>Einmaleins mit Zehnerzahlen</b>		in der Heftmitte nach Seite .....	42
Malnehmen .....	42	<b>Lösungen der Tests am Ende des Lösungsteils</b>	
Teilen .....	43		
Teilen mit Rest .....	45		
Textaufgaben .....	46		
<b>Test 4</b> .....	48		



**Hallo Kinder,**

ich bin Coco, dein Mathe-Trainer, und  
will dir helfen, alle Aufgaben  
genau zu verstehen.


Manchmal gebe ich dir auch Tipps!

Wir reisen ins Land der großen Zahlen,  
der Formen und Größen!

Mit vielen spannenden und spaßigen  
Übungen zum Denken, Knobeln und Malen  
wirst du bald ein echter Profi.

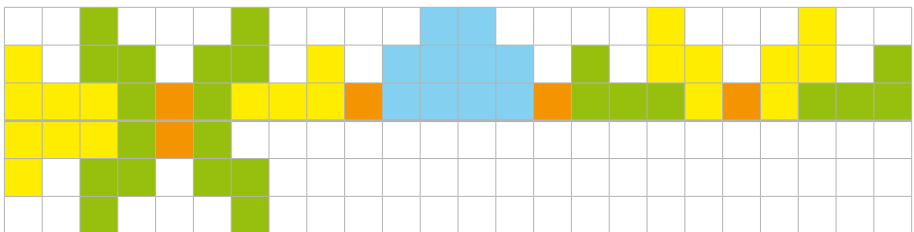
Komm mit und lass uns zusammen  
die Zahlenwelt bis 1000 entdecken!

Auf geht's!

Aufgaben mit  sind ein bisschen schwieriger. Wie gut du  
dich schon auskennst, zeigen dir die **Tests** zwischendurch.


Alle **Lösungen mit Erklärung** kannst du aus der Heftmitte  
herausnehmen. Viel Spaß!

**1** Male das Muster fertig wie ein Spiegelbild.



## 21 Zahlen am Zahlenstrahl bis 1000

Trage die passenden Zahlen in die Luftballons ein und ...



## 22 Kleine und große Nachbarn

Nachbareiner

214	215	216
	568	

	307	
	699	

	800	
	730	

Nachbarzehner

520	524	530
	962	

	437	
	118	

	391	
	506	

Nachbarhunderter

300	344	400
	621	

	737	
	491	

	940	
	819	

### 32 Zahlenreihen: Wie geht es weiter?

200 250 300 \_\_\_\_\_ 600

801 821 841 \_\_\_\_\_ 961

415 410 405 \_\_\_\_\_ 375



550 540 640 630 \_\_\_\_\_ 910

Du weißt nicht weiter?

In der Lösung findest du die Regeln zu den Zahlenreihen.

### 33 Zahlenrätsel für 1000er-Profis



Es ist die größte Zahl  
mit drei Ziffern.

Die Zahl heißt: \_\_\_\_\_.

Meine Zahl liegt zwischen  
200 und 300. Sie hat drei  
gleiche Ziffern.

Die Zahl heißt: \_\_\_\_\_.

Meine Zahl ist doppelt so  
groß wie 200 und halb so  
groß wie 800.

Die Zahl heißt: \_\_\_\_\_.

Meine Zahl hat 8 H  
und halb so viele Z,  
aber keine E.

Die Zahl heißt: \_\_\_\_\_.

Zu schwer? In der Lösung findest du Tipps, die dir helfen können.