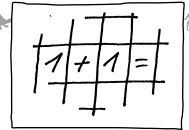
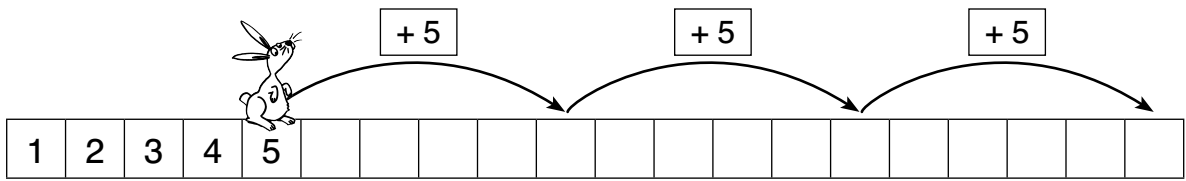


Häschen auf dem Zahlenstrahl

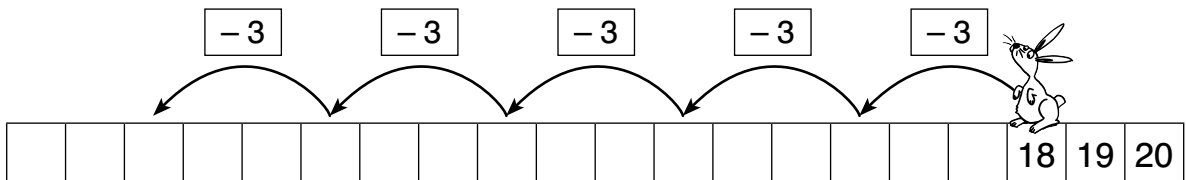


Trage alle fehlenden Zahlen richtig ein.

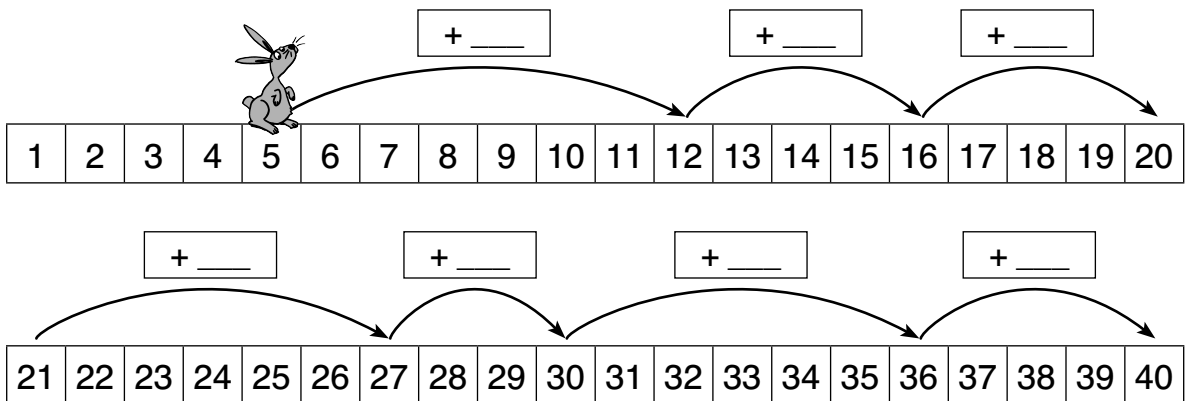
- 1 Das Häschen Hans kann ziemlich weit hüpfen, auf welcher Zahl landet es?



- 2 Doch was passiert, wenn Hans doch wieder zurück möchte? Jetzt ist er etwas müde und kann nicht mehr so weit hüpfen.



- 3 Seine Freundin Henna hüpf mal weiter und mal nicht so weit. Wie weit hüpf Henna?



- 4 Und auch Henna möchte wieder zurück. Wie weit hüpf sie jetzt?

