

Mit Bildern von Annet Rudolph

# ZAHLEN SCHREIBEN

mit dem kleinen Raben Socke



Vorschul-Heft  
mit rabenstarker  
Urkunde

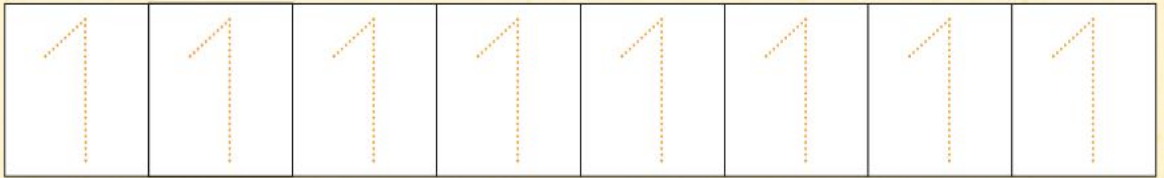
ess!inger



Male die  
Zahl 1  
nach.



Fahre die gepunktete Linie nach.




Hier kannst du die Zahl 1 alleine schreiben.





2 1 4 10 5 6 1 9  
8 3 1 2 3 1 4 7 5  
9

Kreise die Zahl 1 ein. Wie viele findest du?



Welches Tier gibt es nur einmal? Kreise es ein.

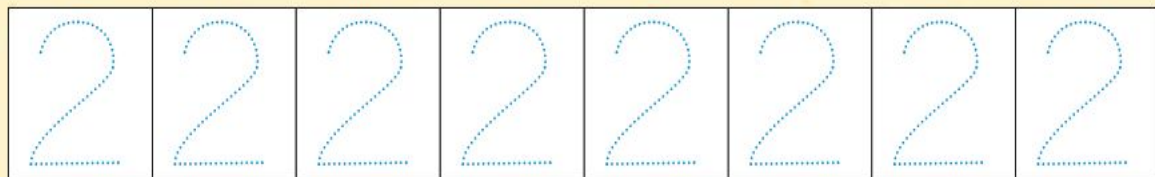




Male die  
Zahl 2  
nach.



Fahre die gepunktete Linie nach.




Hier kannst du die Zahl 2 alleine schreiben.





8 1 3 7 2 6 2 4  
2 9 1 2 3 9 4 10 5

Kreise die Zahl 2 ein. Wie viele findest du?



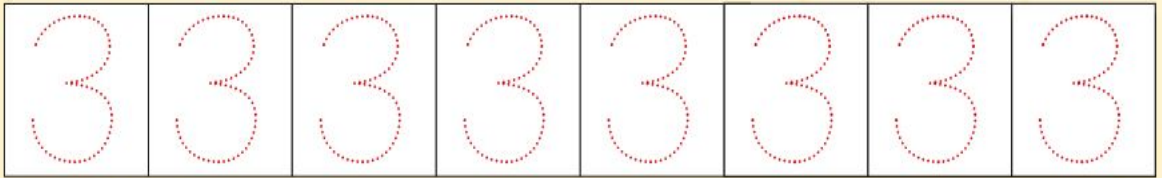
Der kleine Rabe Socke räumt auf.  
Zwei Sachen sind genau gleich, male sie aus.



Male die  
Zahl 3  
nach.



Fahre die gepunktete Linie nach.



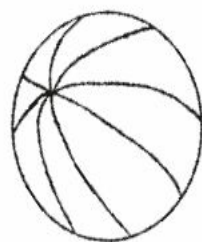
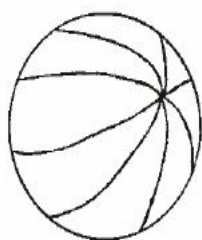
Hier kannst du die Zahl 3 alleine schreiben.




4 1 2 10 5 6 9 3  
8 3 1 2 3 1 4 5 7

Kreise die Zahl 3 ein. Wie viele findest du?

Mal die Bälle passend an.



Socke kann mit 3 Bällen jonglieren. Welche 3 Farben braucht er, wenn er die weißen Bälle genauso anmalen will, wie die farbigen? Kreise die Lösung ein.