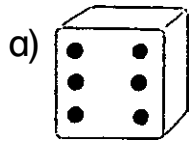
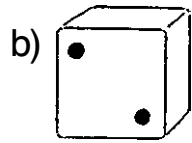


## MENGEN-ZAHL-ZUORDNUNGEN

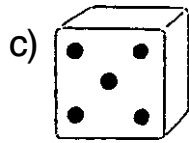
Schreibe die passende Zahl unter das Würfelbild.



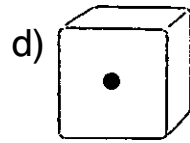
\_\_\_\_\_



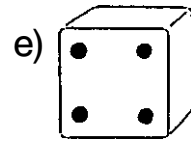
\_\_\_\_\_



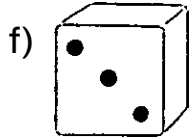
\_\_\_\_\_



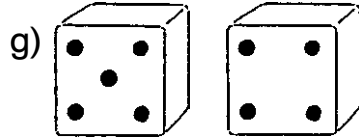
\_\_\_\_\_



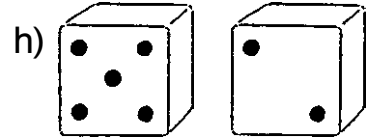
\_\_\_\_\_



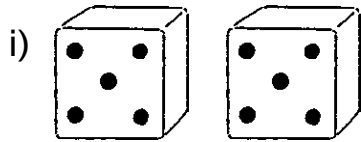
\_\_\_\_\_



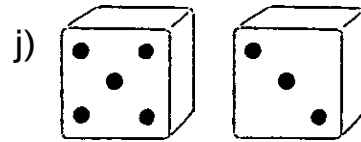
\_\_\_\_\_



\_\_\_\_\_




\_\_\_\_\_




\_\_\_\_\_

## MENGEN-ZAHL-ZUORDNUNGEN


Schreibe die passende Zahl unter das Punktebild.



\_\_\_\_\_




\_\_\_\_\_



\_\_\_\_\_




\_\_\_\_\_



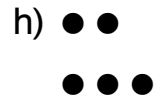
\_\_\_\_\_




\_\_\_\_\_




\_\_\_\_\_




\_\_\_\_\_



\_\_\_\_\_



\_\_\_\_\_



\_\_\_\_\_

# LÖSUNGEN

## MENGEN-ZAHL-ZUORDNUNGEN

Schreibe die passende Zahl unter das Würfelbild.

a) 6    b) 2    c) 5    d) 1    e) 4

f) 3    g) 9    h) 7

i) 10    j) 8

## MENGEN-ZAHL-ZUORDNUNGEN

Schreibe die passende Zahl unter das Punktbild.

a) 7    b) 10    c) 6    d) 3

e) 11    f) 4    g) 8    h) 5

i) 12    j) 9    k) 14

## VERGLEICHEN BIS 10

1. Trage zuerst die fehlenden Zahlen ein.

0 1 2 3 4 5 6 7 8 9 10

2. Vergleiche nun die Zahlen mit  $<$ ,  $>$  oder  $=$ .

a)  $3 < 5$     b)  $6 > 4$     c)  $10 > 3$     d)  $9 = 9$   
 $7 > 1$      $5 > 0$      $8 < 9$      $0 < 3$   
 $9 > 3$      $2 < 10$      $1 = 1$      $6 > 1$   
 $7 < 9$      $6 = 6$      $4 > 2$      $5 < 7$   
 $8 = 8$      $0 < 4$      $0 < 9$      $9 < 10$

## VERGLEICHEN BIS 10

1. Vergleiche die Zahlen mit  $<$ ,  $>$  oder  $=$ .

a)  $9 > 6$     b)  $5 > 2$     c)  $12 > 3$     d)  $15 > 12$   
 $2 < 7$      $3 < 8$      $6 < 8$      $7 > 6$   
 $4 < 5$      $10 > 1$      $0 < 4$      $1 < 4$   
 $8 = 8$      $1 < 9$      $11 > 10$      $7 = 7$

2. Trage die Zahlen passend ein.

12 7 3 10 1 9 4 11 6 5 0  
 $0 < 1 < 3 < 4 < 5 < 6 < 7 < 9 < 10 < 11 < 12$

## ZERLEGUNGEN

a)    b)    c)    d)

e) 

10	
4	6
7	3
2	8

    f) 

8	
5	3
2	6
7	1

    g) 

9	
6	3
1	8
5	4

    h) 

7	
1	6
5	2
3	4

## ZERLEGUNGEN

a) 

10	
1	9
5	5
8	2
6	4

    b) 

7	
2	5
7	0
4	3
6	1

    c) 

8	
7	1
3	5
0	8
4	4

    d) 

11	
4	7
2	9
6	5
8	3

e) 

6	

    f) 

9	

    g) 

5	

    h) 

4	

**individuelle Lösungsmöglichkeit**

## ORDNUNGSZAHLEN

1. Die wievielten Gesichter sind grau? Schreibe jeweils auf.

a) 5. 6. 9.

b) 3. 4. 7. 10.

c) 1. 5. 8. 9.

## ORDNUNGSZAHLEN



1. Male das 3., 5., 7., 9. und 10. Gesicht an.

2. An welcher Stelle stehen die Sachen? Schreibe auf.

a)  $\triangle = 3.$     b)  $\text{Blitz} = 8.$     c)  $\text{Herz} = 10.$     d)  $\text{Lächeln} = 5.$   
e)  $\text{Zylinder} = 7.$     f)  $\text{Sonne} = 1.$     g)  $\text{Ziel} = 2.$     h)  $\text{Mond} = 6.$   
i)  $\text{Bogen} = 9.$     j)  $\text{Stern} = 4.$

## MENGEN VON 11 BIS 20

1. Kreise immer 10 Dinge ein. Schreibe die Zahl auf.

	Z	E
	Z	E

2. Schreibe die Zahlen auf.

a) _____ ● ● ● ● □ □	b) _____ _____ □ □	c) _____ ● ● ● ● ● ● ● ● □ □	d) _____ ● □ □
e) _____ ● ● ● ● ● ● □ □	f) _____ ● ● ● ● ● ● ● ● ● ● □ □	g) _____ _____ □ □	h) _____ ● ● □ □

## MENGEN VON 11 BIS 20

1. Welche Zahlen sind es? Schreibe auf.

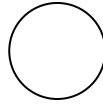
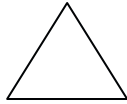
a) _____ ● ● ● □ □	b) _____ ● ● ● ● ● ● ● ● □ □	c) _____ ● ● □ □	d) _____ ● ● ● ● ● □ □
e) _____ _____ □ □	f) _____ ● □ □	g) _____ ● ● ● ● ● ● ● ● ● ● □ □	h) _____ ● ● ● ● ● ● ● □ □

2. Zeichne selbst.

a)	b)	c)	d)
15	20	13	17
e)	f)	g)	h)
18	11	16	19

## GEOMETRISCHE FORMEN

1. Verbinde passend.



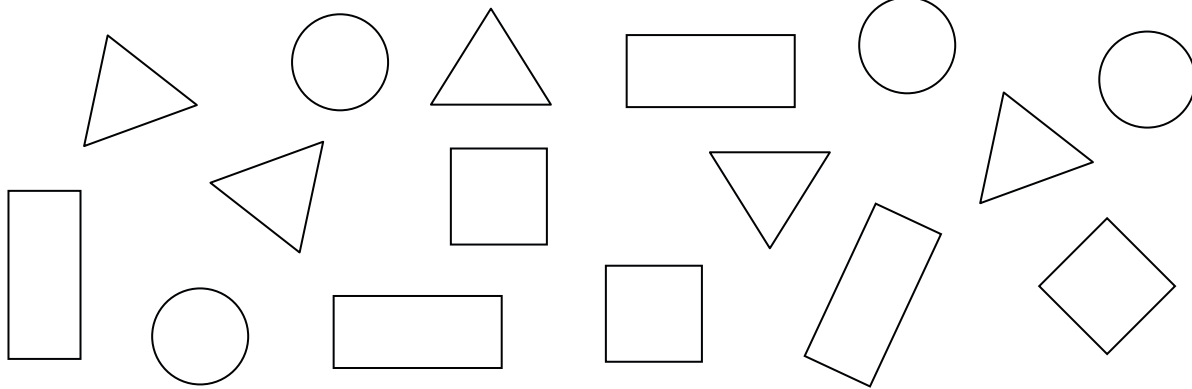
Kreis

Quadrat

Dreieck

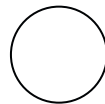

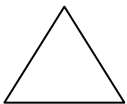
Rechteck

2. Male an: Quadrate = rot, Rechtecke = blau, Kreise = grün, Dreiecke = gelb



## GEOMETRISCHE FORMEN

1. Wie heißen die Formen?



\_\_\_\_\_

\_\_\_\_\_

\_\_\_\_\_


\_\_\_\_\_

2. Kreuze an: Richtig oder falsch?

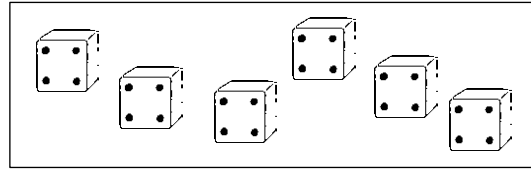
	richtig	falsch
a) Jedes Dreieck hat 3 Ecken.		
b) Jedes Rechteck ist auch ein Quadrat.		
c) Jedes Quadrat ist auch ein Rechteck.		
d) Alle Seiten sind beim Quadrat immer gleich lang.		
e) Alle Seiten sind beim Dreieck immer gleich lang.		

## VON DER PLUS- ZUR MALAUFGABE

1. Schreibe die passende Malaufgabe zum Bild und rechne beide Aufgaben aus.



a)  $3 + 3 + 3 + 3 + 3 = \underline{\quad}$   
 $\square \cdot 3 = \underline{\quad}$



b)  $4 + 4 + 4 + 4 + 4 + 4 = \underline{\quad}$   
 $\square \cdot 4 = \underline{\quad}$

2. Schreibe zur Plusaufgabe die passende Malaufgabe und rechne.

a)  $5 + 5 + 5 + 5 = \underline{\quad}$   
 $\square \cdot 5 = \underline{\quad}$

b)  $2 + 2 + 2 + 2 + 2 + 2 = \underline{\quad}$   
 $\square \cdot 2 = \underline{\quad}$

c)  $7 + 7 + 7 + 7 = \underline{\quad}$   
 $\square \cdot 7 = \underline{\quad}$

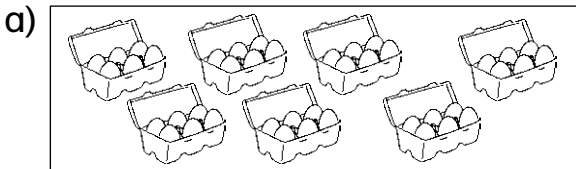
d)  $6 + 6 + 6 + 6 + 6 = \underline{\quad}$   
 $\square \cdot 6 = \underline{\quad}$

e)  $9 + 9 = \underline{\quad}$   
 $\square \cdot 9 = \underline{\quad}$

f)  $8 + 8 + 8 = \underline{\quad}$   
 $\square \cdot 8 = \underline{\quad}$

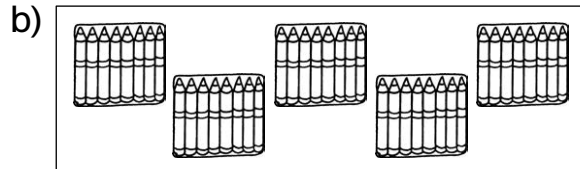
## VON DER PLUS- ZUR MALAUFGABE

1. Schreibe zu den Bildern eine Plus- und eine Malaufgabe.



$\underline{\quad} + \underline{\quad} = \underline{\quad}$

$\underline{\quad} \cdot \underline{\quad} = \underline{\quad}$



$\underline{\quad} + \underline{\quad} = \underline{\quad}$

$\underline{\quad} \cdot \underline{\quad} = \underline{\quad}$

2. Schreibe zur Plusaufgabe die entsprechende Malaufgabe und rechne.

a)  $9 + 9 + 9 + 9 + 9 = \underline{\quad}$

b)  $7 + 7 + 7 + 7 + 7 + 7 + 7 = \underline{\quad}$

$\underline{\quad}$

$\underline{\quad}$

c)  $8 + 8 + 8 + 8 = \underline{\quad}$

d)  $6 + 6 + 6 + 6 + 6 + 6 + 6 + 6 = \underline{\quad}$

$\underline{\quad}$

$\underline{\quad}$

e)  $5 + 5 + 5 + 5 + 5 + 5 = \underline{\quad}$

f)  $4 + 4 + 4 + 4 + 4 = \underline{\quad}$

$\underline{\quad}$

$\underline{\quad}$