


Meine
Freundin



Conni

Die Uhrzeit



CARLSEN


Die Uhrzeit



Texte von Hanna Sörensen
Mit Bildern von Uli Velte

Wann sind wir endlich da?

Conni und Jolanda fahren mit Connis Papa in den Wildpark. „Wann sind wir denn da?“, fragen sie immer wieder aufgeregt und pressen die Nasen ans Zugfenster. Papa lacht. „Das dauert noch eine Stunde. Aber wisst ihr was? So lange erkläre ich euch die Uhr. Dann könnt ihr sie bald selbst lesen.“



Das Ziffernblatt

Auf dem Ziffernblatt siehst du die Zahlen von 1 bis 12. Jede Zahl steht für eine Stunde. Ein Tag hat 24 Stunden. Das sind zweimal 12 Stunden. Die kleinen Striche auf dem Ziffernblatt stehen für die Minuten. Es sind 60 Striche.


Der Stundenzeiger

Der kurze Zeiger zeigt die Stunden an. Deshalb heißt er auch „Stundenzeiger“. In einer Stunde wandert dieser Zeiger von einer Zahl zur nächsten.

Der Minutenzeiger

Der lange Zeiger zeigt die Minuten an. Er heißt „Minutenzeiger“. In einer Minute wandert er von einem Strich zum nächsten. Hat er sich einmal um den ganzen Kreis bewegt, ist eine Stunde vergangen. Eine Stunde besteht aus 60 Minuten.

Jetzt sind sie da! Begeistert laufen Conni und Jolanda zum Eingang des Wildparks. Wie spät ist es?



„Am großen Zeiger liest du die Minuten ab“, sagt Conni, „und am kleinen Zeiger erkennst du die Stunden. Auf dieser Uhr ist es 10 Uhr: Der kleine Zeiger zeigt auf die 10. Der große Zeiger steht auf der 12.“



Auf welcher Uhr ist es 6 Uhr? Male die richtige Uhr an.



Auf welcher Uhr ist es 9 Uhr?





Die ganze Stunde

Conni und Jolanda staunen über die mächtigen Wisente.
Sie sind Herdentiere. In Gesellschaft fühlen sie sich am wohlsten.
Wie spät ist es? Trage die Uhrzeit ein.

Es ist ____ Uhr.



Wie spät ist es? Trage die Uhrzeiten ein.



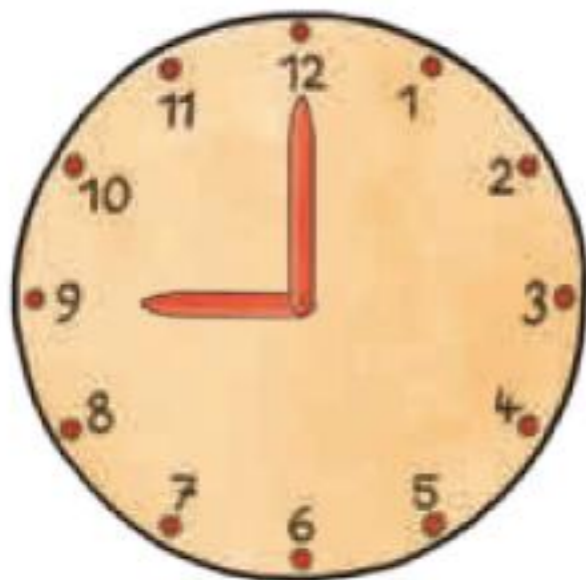
Es ist ____ Uhr.




Es ist ____ Uhr.



Es ist ____ Uhr.



Es ist ____ Uhr.



Es ist ____ Uhr.



Es ist ____ Uhr.