



Stadt, Land, Fluss

Lina hat von ihrer Schwester ein ganz spezielles Stadt-Land-Fluss-Spiel geschenkt bekommen, bei dem nicht nur die Stadt gefunden werden muss, durch die der jeweilige Fluss fließt, sondern auch noch das Bundesland, in dem die Stadt liegt.

Hilf Lina, die Übersicht auszufüllen.

Hinweis: Es muss keine bestimmte Reihenfolge eingehalten werden. Nicht nur jede Stadt und jedes Land, sondern auch jeder Fluss kommt nur einmal vor.

1. Dresden liegt an der Elbe.
2. Die Stadt aus Nordrhein-Westfalen heißt Köln.
3. Hannover liegt nicht am Rhein.
4. Die Stadt aus Baden-Württemberg heißt Stuttgart.
5. Köln liegt nicht am Neckar.
6. Die Stadt aus Niedersachsen liegt nicht am Rhein.
7. Dresden ist die Stadt aus Sachsen.
8. Hannover liegt nicht am Neckar.
9. Die Leine fließt weder durch Dresden noch durch Stuttgart.

Stadt	Land	Fluss

Infobox:

Sicher kennst du das Spiel „Stadt, Land, Fluss“, bei dem zu einem Buchstaben jeweils eine Stadt, ein Land und ein Fluss genannt werden muss, die mit diesem Buchstaben beginnen (für „A“ zum Beispiel Augsburg, Albanien, Aare). Am Anfang kann der jüngste Mitspieler den Buchstaben vorgeben, danach der Gewinner der letzten Runde. Natürlich kann man die Liste „Stadt, Land, Fluss“ auch erweitern (z. B. um Name oder Beruf).



Stadt, Land, Fluss

Lina hat von ihrer Schwester ein ganz spezielles Stadt-Land-Fluss-Spiel geschenkt bekommen, bei dem nicht nur die Stadt gefunden werden muss, durch die der jeweilige Fluss fließt, sondern auch noch das Bundesland, in dem die Stadt liegt.

Hilf Lina, die Übersicht auszufüllen.

Hinweis: Es muss keine bestimmte Reihenfolge eingehalten werden. Nicht nur jede Stadt und jedes Land, sondern auch jeder Fluss kommt nur einmal vor.

1. Dresden liegt an der Elbe.
2. Die Stadt aus Nordrhein-Westfalen heißt Köln.
3. Hannover liegt nicht am Rhein.
4. Die Stadt aus Baden-Württemberg heißt Stuttgart.
5. Köln liegt nicht am Neckar.
6. Die Stadt aus Niedersachsen liegt nicht am Rhein.
7. Dresden ist die Stadt aus Sachsen.
8. Die Stadt aus Bayern heißt Regensburg.
9. Hannover liegt weder am Neckar noch an der Donau.
10. Die Leine fließt weder durch Dresden noch durch Stuttgart.

Stadt	Land	Fluss

Infobox:

Sicher kennst du das Spiel „Stadt, Land, Fluss“, bei dem zu einem Buchstaben jeweils eine Stadt, ein Land und ein Fluss genannt werden muss, die mit diesem Buchstaben beginnen (für „A“ zum Beispiel Augsburg, Albanien, Aare). Am Anfang kann der jüngste Mitspieler den Buchstaben vorgeben, danach der Gewinner der letzten Runde. Natürlich kann man die Liste „Stadt, Land, Fluss“ auch erweitern (z. B. um Name oder Beruf).

Stadt, Land, Fluss

Lina hat von ihrer Schwester ein ganz spezielles Stadt-Land-Fluss-Spiel geschenkt bekommen, bei dem nicht nur die Stadt gefunden werden muss, durch die der jeweilige Fluss fließt, sondern auch noch das Bundesland, in dem die Stadt liegt.

Hilf Lina, die Übersicht auszufüllen.

Hinweis: Es muss keine bestimmte Reihenfolge eingehalten werden. Nicht nur jede Stadt und jedes Land, sondern auch jeder Fluss kommt nur einmal vor.

1. Dresden liegt an der Elbe.
2. Die Stadt aus Nordrhein-Westfalen heißt Köln.
3. Hannover liegt nicht am Rhein.
4. Die Stadt aus Baden-Württemberg heißt Stuttgart.
5. Köln liegt nicht am Neckar.
6. Die Stadt aus Niedersachsen liegt nicht am Rhein.
7. Dresden ist die Stadt aus Sachsen.
8. Die Stadt aus Bayern heißt nicht Frankfurt.
9. Hannover liegt weder am Neckar noch an der Donau.
10. Die Leine fließt weder durch Dresden noch durch Stuttgart.
11. Regensburg liegt in Bayern.
12. Der Main fließt durch die Stadt aus Hessen.

Stadt	Land	Fluss

Infobox:

Sicher kennst du das Spiel „Stadt, Land, Fluss“, bei dem zu einem Buchstaben jeweils eine Stadt, ein Land und ein Fluss genannt werden muss, die mit diesem Buchstaben beginnen (für „A“ zum Beispiel Augsburg, Albanien, Aare). Am Anfang kann der jüngste Mitspieler den Buchstaben vorgeben, danach der Gewinner der letzten Runde. Natürlich kann man die Liste „Stadt, Land, Fluss“ auch erweitern (z. B. um Name oder Beruf).

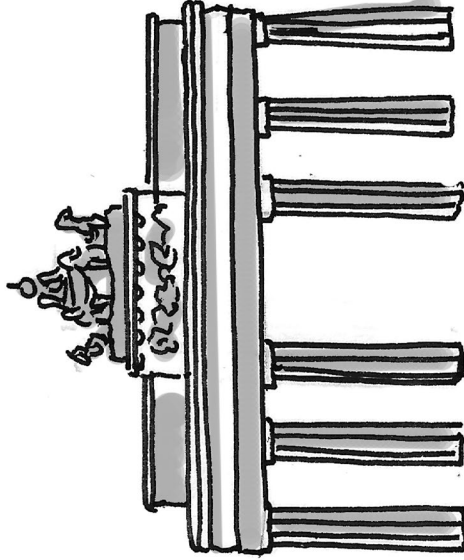
Städtekunde

Tom hat in seiner Klasse herumgefragt, was seine Mitschülerinnen und Mitschüler über deutsche Städte, ihre Bedeutung und ihre Größe wissen, und auch einige Rückmeldungen bekommen und sie gesammelt.

Tom ist sich sicher, dass alle Angaben seiner Klassenkameradinnen und Klassenkameraden stimmen, doch sind diese Notizen so furchtbar unsystematisch.

Kannst du Tom helfen, die Angaben systematisch darzustellen?

Hinweis: Jede Ebene bildet eine bestimmte Stadtkategorie; innerhalb der Ebenen muss keine bestimmte Reihenfolge eingehalten werden. Informationen zu den verschiedenen Stadtkategorien findest du in der Infobox. Du kannst die Städte in den Kästen zu Hilfe nehmen: Schneide sie aus und lege sie zunächst an die Stelle, die du vermutest; wenn das Rätsel gelöst ist, kannst du sie aufkleben.



Infobox:

In vielen Ländern ist die Sache einfach: Die größte Stadt ist die Hauptstadt des Staates und zugleich das wirtschaftliche und kulturelle Zentrum. In Frankreich zum Beispiel ist das Paris oder in England London. In Deutschland ist die Lage aufgrund seiner föderalen Struktur, aber auch aus historischen Gründen etwas komplizierter. Zwar ist auch in Deutschland die größte Stadt: Bundeshauptstadt. Die wirtschaftlich bedeutendste und international sehr bekannte Stadt Frankfurt (Sitz der Europäischen Zentralbank!) dagegen ist noch nicht einmal Landeshauptstadt (das ist im Fall von Hessen Wiesbaden). Auch die größten Städte von Nordrhein-Westfalen (Köln) und Sachsen (Leipzig) sind nicht die jeweiligen Landeshauptstädte. Aus historischen Gründen gibt es in Deutschland außerdem sogenannte Stadtstaaten. Stadtstaaten sind Städte, die den Rang eines Bundeslandes haben.



Städtekunde

Berlin

Bremen

Dresden

Düsseldorf

Hamburg

Köln

München

Stuttgart

Bundeshauptstadt
Stadt:

Stadtstaat
Stadt:

Stadtstaat
Stadt:

Millionenstadt
Stadt:

Millionenstadt
Stadt:

Landeshauptstadt
Stadt:

Landeshauptstadt
Stadt:

Landeshauptstadt
Stadt:

1. Bremen ist weder Millionenstadt noch Bundeshauptstadt.
2. Köln ist weder Stadtstaat noch Landeshauptstadt.
3. München ist in der Übersicht auf derselben Ebene wie Köln angeordnet.
4. Berlin ist zwar auch ein Stadtstaat, ist in der Übersicht aber trotzdem oberhalb der Stadtstaaten angeordnet.
5. Hamburg ist in der Übersicht auf derselben Ebene wie Bremen angeordnet.
6. Stuttgart und Dresden sind auf derselben Ebene angeordnet.
7. Düsseldorf ist keine Millionenstadt.



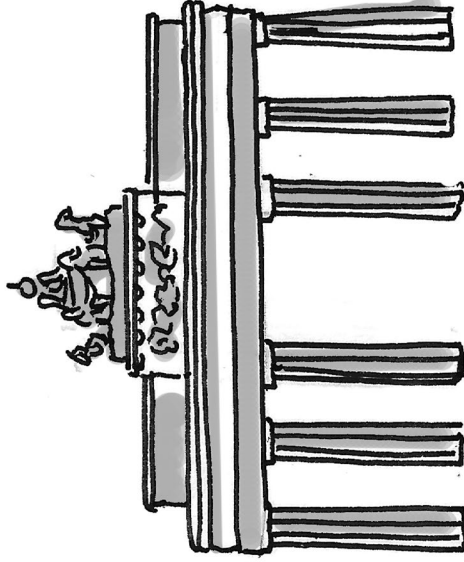
Städtekunde

Tom hat in seiner Klasse herumgefragt, was seine Mitschülerinnen und Mitschüler über deutsche Städte, ihre Bedeutung und ihre Größe wissen, und auch einige Rückmeldungen bekommen und sie gesammelt.

Tom ist sich sicher, dass alle Angaben seiner Klassenkameradinnen und Klassenkameraden stimmen, doch sind diese Notizen so furchtbar unsystematisch.

Kannst du Tom helfen, die Angaben systematisch darzustellen?

Hinweis: Jede Ebene bildet eine bestimmte Stadtkategorie; innerhalb der Ebenen muss keine bestimmte Reihenfolge eingehalten werden. Informationen zu den verschiedenen Stadtkategorien findest du in der Infobox. Du kannst die Städte in den Kästen zu Hilfe nehmen: Schneide sie aus und lege sie zunächst an die Stelle, die du vermutest; wenn das Rätsel gelöst ist, kannst du sie aufkleben.



Infobox:

In vielen Ländern ist die Sache einfach: Die größte Stadt ist die Hauptstadt des Staates und zugleich das wirtschaftliche und kulturelle Zentrum. In Frankreich zum Beispiel ist das Paris oder in England London. In Deutschland ist die Lage aufgrund seiner föderalen Struktur, aber auch aus historischen Gründen etwas komplizierter. Zwar ist auch in Deutschland die größte Stadt: Bundeshauptstadt. Die wirtschaftlich bedeutendste und international sehr bekannte Stadt Frankfurt (Sitz der Europäischen Zentralbank!) dagegen ist noch nicht einmal Landeshauptstadt (das ist im Fall von Hessen Wiesbaden). Auch die größten Städte von Nordrhein-Westfalen (Köln) und Sachsen (Leipzig) sind nicht die jeweiligen Landeshauptstädte. Aus historischen Gründen gibt es in Deutschland außerdem sogenannte Stadtstaaten. Stadtstaaten sind Städte, die den Rang eines Bundeslandes haben.



Städtekunde

Berlin

Bremen

Dresden

Düsseldorf

Hamburg

Köln

München

Stuttgart

Bundeshauptstadt

Millionenstadt (2x)

Stadtstaat (2x)

Stadt:

Stadt:

Stadt:

Stadt:

Stadt:

Landeshauptstadt
Stadt:

Landeshauptstadt
Stadt:

Landeshauptstadt
Stadt:

1. Bremen ist weder Millionenstadt noch Bundeshauptstadt.
2. Köln ist weder Stadtstaat noch Landeshauptstadt.
3. München ist in der Übersicht auf derselben Ebene wie Köln angeordnet.
4. Stadtstaaten sind in der Übersicht zwischen der Bundeshauptstadt und den Millionenstädten angeordnet.
5. Berlin ist zwar auch ein Stadtstaat, ist in der Übersicht aber trotzdem oberhalb der Stadtstaaten angeordnet.
6. Hamburg ist in der Übersicht auf derselben Ebene wie Bremen angeordnet.
7. Stuttgart und Dresden sind auf derselben Ebene angeordnet.
8. Düsseldorf ist keine Millionenstadt.



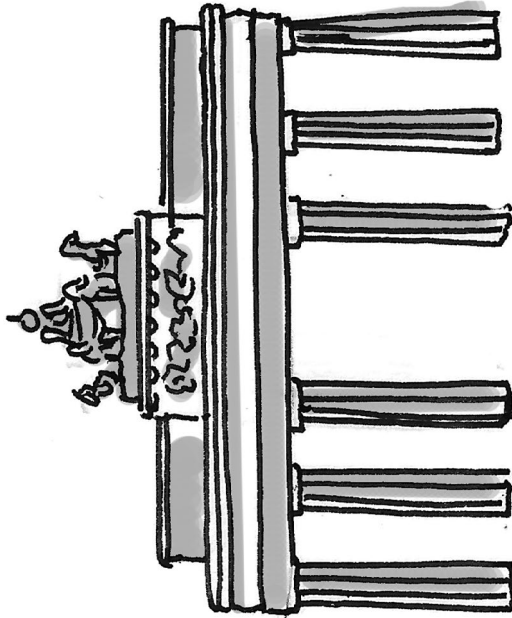
Städtekunde

Tom hat in seiner Klasse herumgefragt, was seine Mitschülerinnen und Mitschüler über deutsche Städte, ihre Bedeutung und ihre Größe wissen, und auch einige Rückmeldungen bekommen und sie gesammelt.

Tom ist sich sicher, dass alle Angaben seiner Klassenkameradinnen und Klassenkameraden stimmen, doch sind diese Notizen so furchtbar unsystematisch.

Kannst du Tom helfen, die Angaben systematisch darzustellen?

Hinweis: Jede Ebene bildet eine bestimmte Stadtkategorie; innerhalb der Ebenen muss keine bestimmte Reihenfolge eingehalten werden. Informationen zu den verschiedenen Stadtkategorien findest du in der Infobox.



Infobox:

In vielen Ländern ist die Sache einfach: Die größte Stadt ist die Hauptstadt des Staates und zugleich das wirtschaftliche und kulturelle Zentrum. In Frankreich zum Beispiel ist das Paris oder in England London. In Deutschland ist die Lage aufgrund seiner föderalen Struktur, aber auch aus historischen Gründen etwas komplizierter. Zwar ist auch in Deutschland die größte Stadt: Bundeshauptstadt. Die wirtschaftlich bedeutendste und international sehr bekannte Stadt Frankfurt (Sitz der Europäischen Zentralbank!) dagegen ist noch nicht einmal Landeshauptstadt (das ist im Fall von Hessen Wiesbaden). Auch die größten Städte von Nordrhein-Westfalen (Köln) und Sachsen (Leipzig) sind nicht die jeweiligen Landeshauptstädte. Aus historischen Gründen gibt es in Deutschland außerdem sogenannte Stadtstaaten. Stadtstaaten sind Städte, die den Rang eines Bundeslandes haben.



Städtekunde

Stadt:

Stadt:

Stadt:

Stadt:

Stadt:

Stadt:

Stadt:

Stadt:

1. Bremen ist weder Millionenstadt noch Bundeshauptstadt.
2. Köln ist weder Stadtstaat noch Landeshauptstadt.
3. München ist in der Übersicht auf derselben Ebene wie Köln angeordnet.
4. Stadtstaaten sind in der Übersicht zwischen der Bundeshauptstadt und den Millionenstädten angeordnet.
5. Berlin ist zwar auch ein Stadtstaat, ist in der Übersicht aber trotzdem oberhalb der Stadtstaaten angeordnet.
6. Hamburg ist in der Übersicht auf derselben Ebene wie Bremen angeordnet.
7. Stuttgart und Dresden sind auf derselben Ebene angeordnet.
8. Düsseldorf ist keine Millionenstadt.



Die höchsten Berge

Mia hat im Internet zu Bergen in Deutschland recherchiert und sich dazu auch einige Notizen gemacht, die allerdings durcheinandergeraten sind.

Hilf Mia, Ordnung in ihre Notizen zu bringen.

	Brocken	Feldberg	Fichtelberg	Schneefernerkopf	Watzmann	Zugspitze
1.141						
1.214			X			
1.493						
2.713						
2.874						
2.962						

1. Die Zugspitze ist nicht kleiner als 2.713 Meter.
2. Der Fichtelberg ist größer als der Brocken.
3. Der Feldberg ist kleiner als der Schneefernerkopf, aber größer als der Brocken.
4. Der Watzmann ist über 1.493 Meter hoch.
5. Die Zugspitze ist größer als der Schneefernerkopf.
6. Der Feldberg ist nicht kleiner als der Fichtelberg.
7. Der Schneefernerkopf ist größer als der Watzmann.

Infobox:

Die sieben höchsten Berge Deutschlands liegen allesamt im Wettersteingebirge; erst der achthöchste Berg gehört dann zu den Berchtesgadener Alpen. Entscheidend für die Bedeutung eines Berges ist aber nicht allein seine Höhe. Vielmehr geht es auch um die Dominanz, also darum, inwieweit der Berg die ihn umgebende Landschaft überragt. Zum Beispiel wäre ein 3000 Meter hoher Berg der höchste Berg Deutschlands, aber im Himalaja-Gebirge ein Winzling. So ist der Brocken der Berg mit größten Dominanz in Deutschland. Wie sehr die Umgebung die Wahrnehmung bestimmt, zeigt der Bungsberg. Das ist der mit 167 Metern größte Berg Schleswig-Holsteins. Der größte Berg außerhalb der Alpen ist übrigens der Feldberg.



Die höchsten Berge

Mia hat im Internet zu Bergen in Deutschland recherchiert und sich dazu auch einige Notizen gemacht, die allerdings durcheinandergeraten sind.

Hilf Mia, Ordnung in ihre Notizen zu bringen.

	Brocken	Fichtelberg	Zugspitze
1.141			
1.214			
1.493			
2.713			
2.874			
2.962			

1. Die Zugspitze ist nicht kleiner als 2.713 Meter.
2. Der Fichtelberg ist größer als der Brocken.
3. Der Feldberg ist kleiner als der Schneefernerkopf, aber größer als der Brocken.
4. Der Watzmann ist über 1.493 Meter hoch.
5. Die Zugspitze ist größer als der Schneefernerkopf.
6. Der Feldberg ist nicht kleiner als der Fichtelberg.
7. Der Schneefernerkopf ist größer als der Watzmann.

Infobox:

Die sieben höchsten Berge Deutschlands liegen allesamt im Wettersteingebirge; erst der achthöchste Berg gehört dann zu den Berchtesgadener Alpen. Entscheidend für die Bedeutung eines Berges ist aber nicht allein seine Höhe. Vielmehr geht es auch um die Dominanz, also darum, inwieweit der Berg die ihn umgebende Landschaft überragt. Zum Beispiel wäre ein 3000 Meter hoher Berg der höchste Berg Deutschlands, aber im Himalaja-Gebirge ein Winzling. So ist der Brocken der Berg mit größten Dominanz in Deutschland. Wie sehr die Umgebung die Wahrnehmung bestimmt, zeigt der Bungsberg. Das ist der mit 167 Metern größte Berg Schleswig-Holsteins. Der größte Berg außerhalb der Alpen ist übrigens der Feldberg.



Die höchsten Berge

Mia hat im Internet zu Bergen in Deutschland recherchiert und sich dazu auch einige Notizen gemacht, die allerdings durcheinandergeraten sind.

Hilf Mia, Ordnung in ihre Notizen zu bringen.

	Brocken	Fichtelberg	Langenberg	Zugspitze
843				
1.141				
1.214				
1.493				
2.713				
2.874				
2.962				

1. Die Zugspitze ist nicht kleiner als 2.713 Meter.
2. Der Fichtelberg ist größer als der Brocken und der Langenberg.
3. Der Feldberg ist kleiner als der Schneefernerkopf, aber größer als der Brocken.
4. Der Watzmann ist über 1.493 Meter hoch.
5. Die Zugspitze ist größer als der Schneefernerkopf.
6. Der Feldberg ist nicht kleiner als der Fichtelberg.
7. Der Schneefernerkopf ist größer als der Watzmann und der Brocken größer als der Langenberg.

Infobox:

Die sieben höchsten Berge Deutschlands liegen allesamt im Wettersteingebirge; erst der achthöchste Berg gehört dann zu den Berchtesgadener Alpen. Entscheidend für die Bedeutung eines Berges ist aber nicht allein seine Höhe. Vielmehr geht es auch um die Dominanz, also darum, inwieweit der Berg die ihn umgebende Landschaft überragt. Zum Beispiel wäre ein 3000 Meter hoher Berg der höchste Berg Deutschlands, aber im Himalaja-Gebirge ein Winzling. So ist der Brocken der Berg mit größten Dominanz in Deutschland. Wie sehr die Umgebung die Wahrnehmung bestimmt, zeigt der Bungsberg. Das ist der mit 167 Metern größte Berg Schleswig-Holsteins. Der größte Berg außerhalb der Alpen ist übrigens der Feldberg.